


なぞぷよ戦術技術開発研究所2016

戦技研オリジナルのなぞぷよを解いて豪華賞品をゲットしよう！


解答方法

受付で答え合わせしてクリア印を押しもらおう！

【4連鎖するべし】

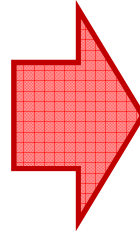


【4連鎖するべし】



ぷよ譜

→ 01			
02			



齊藤

ぷよ譜

01		20	
→ 02		12	

1 2 3 4 5 6

横に置く場合は、左から数えた列数をそれぞれ書いてください。
縦に置く場合は、下に置くぷよは左から数えた列数、
上に置くぷよは0を書いてください。

段級位認定制度

級位	ポイント
初段	120
1級	100
2級	80
3級	60

級位	ポイント
4級	45
5級	30
6級	20
7級	10


初段に到達すればさらなる高みに挑戦できる・・・？

解答の確認・問題の質問・段位認定証の発行はなぞぷよ受付まで。
解答の確認は1問からでもOKです。

なぞぶよ戦術技術開発研究所2016

練習問題 by aojil


【ぶよ6個同時に消すべし】



ぶよ譜		
→	01	
	02	

Tips
赤を全部消す必要があるの
で、赤を1列にそろえて消すよ
うにしよう


【2連鎖するべし】



ぶよ譜		
→	01	
	02	

Tips
赤から連鎖がスタートするよ
うにするためには青の置き場は
1カ所しかない！


【おじゃまぶよ全て消すべし】



ぶよ譜		
→	01	
	02	

Tips
赤と黄色を消せばよい。赤の
消し方を工夫すべし


【4連鎖するべし】



ぶよ譜		
→	01	
	02	

Tips
ぶよの数を数えると合計で16個な
ので4連鎖するためには4個ずつ
消す必要がある
下の青や緑から消すと6個同時に
消えてしまうので...


【3連鎖するべし】



ぶよ譜		
→	01	
	02	

Tips
緑から連鎖をスタートさせる。
緑の次は何が消える？

【4連鎖するべし】



ぶよ譜		
→	01	
	02	

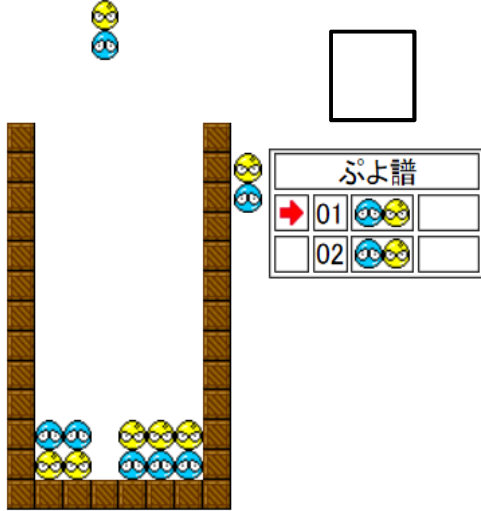
Tips
<難問> 赤⇒青⇒赤⇒青の4
連鎖も青⇒赤⇒青⇒赤の4連
鎖も不可能。ということは...

なぞぷよ戦術技術開発研究所2016

Level:Beginner(各5ポイント)

第一問

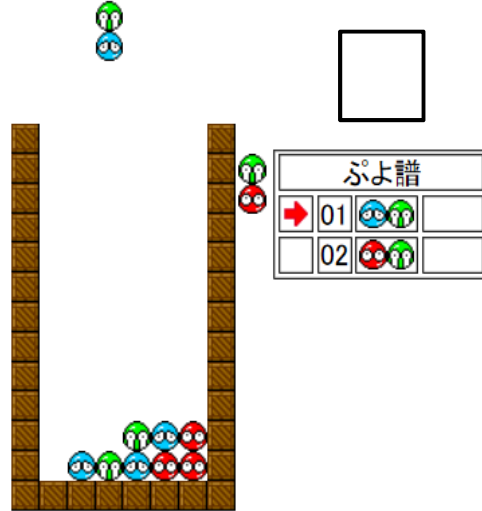
【ぷよ全て消すべし】



作: aojil

第二問

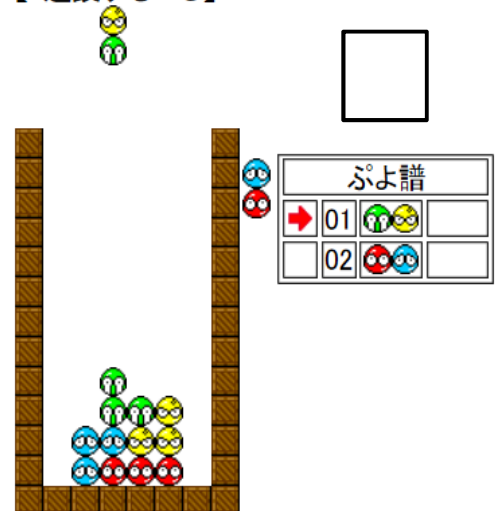
【ぷよ全て消すべし】



作: さっか

第三問

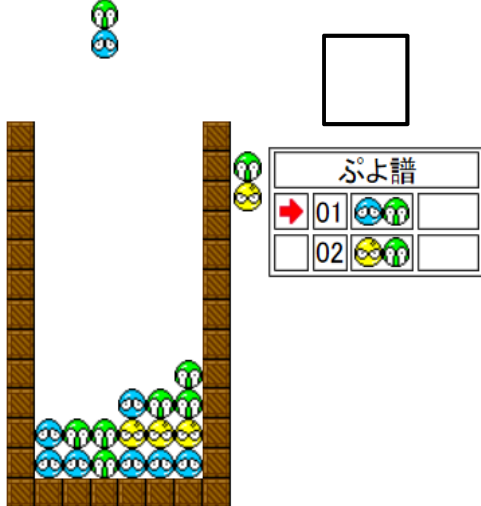
【4連鎖するべし】



作: platinum

第四問

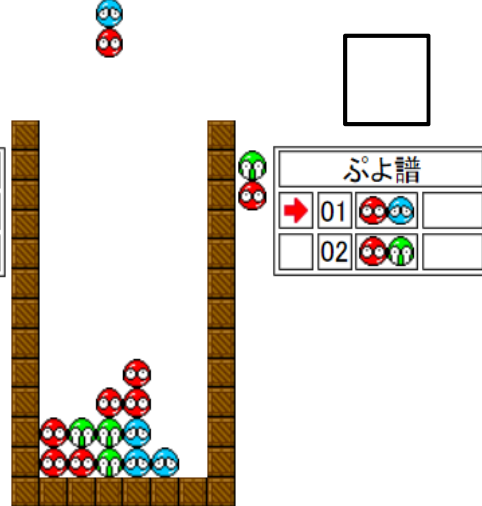
【5連鎖するべし】



作: aojil

第五問

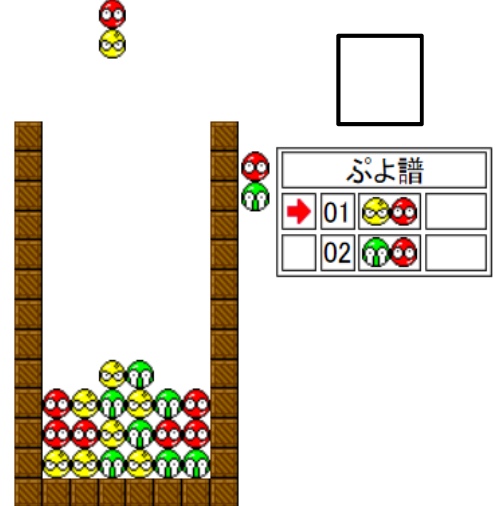
【ぷよ12個同時に消すべし】



作: aojil

第六問

【6連鎖するべし】



作: shimogon

各問題のQRコード



第一問



第二問



第三問



第四問



第五問



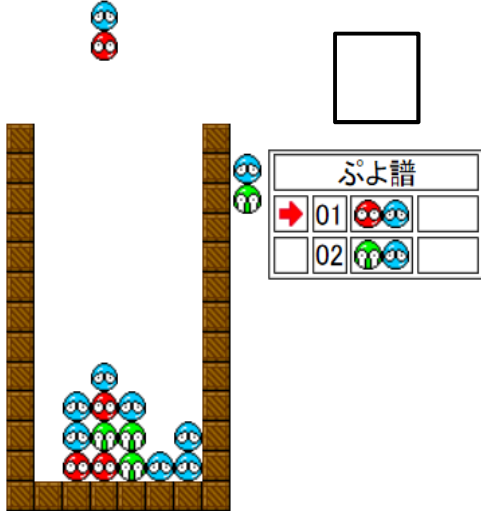
第六問

なぞぷよ戦術技術開発研究所2016

Level:Easy(各7ポイント)

第一問

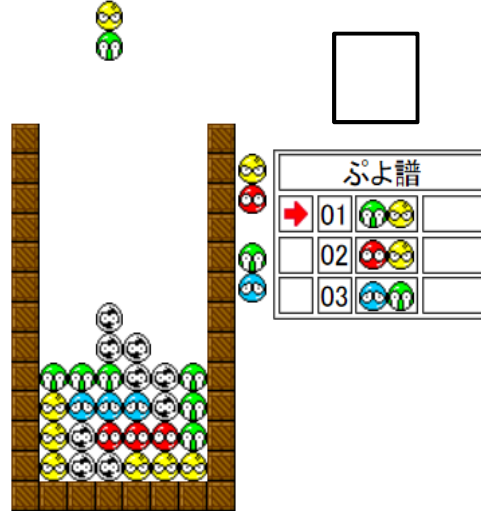
【4連鎖&ぷよ全て消すべし】



作:hides

第二問

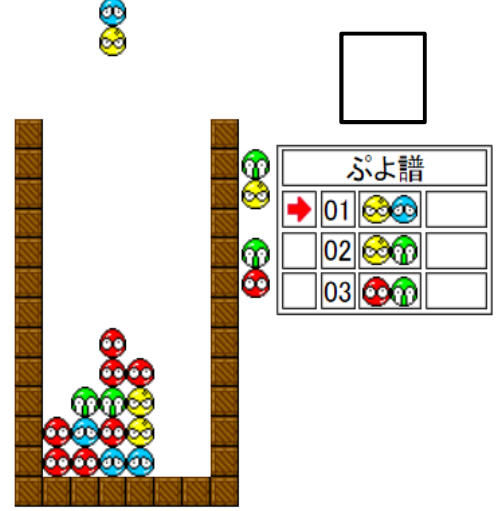
【6連鎖するべし】



作:shimogon

第三問

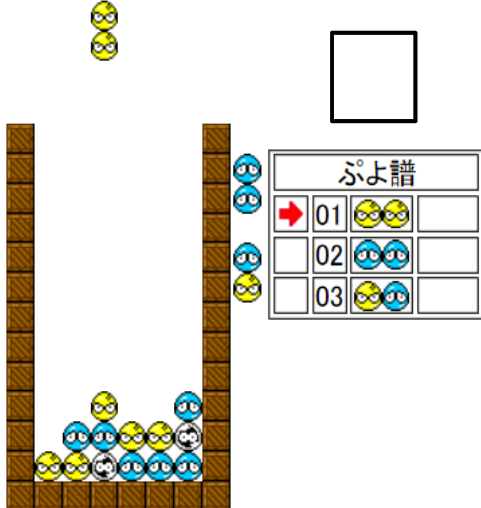
【5連鎖するべし】



作:platinum

第四問

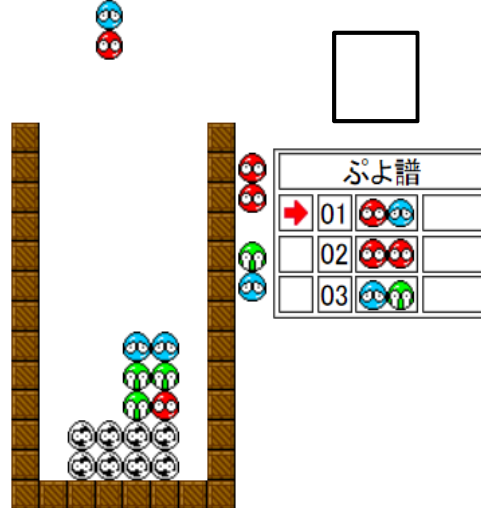
【4連鎖するべし】



作:aojil

第五問

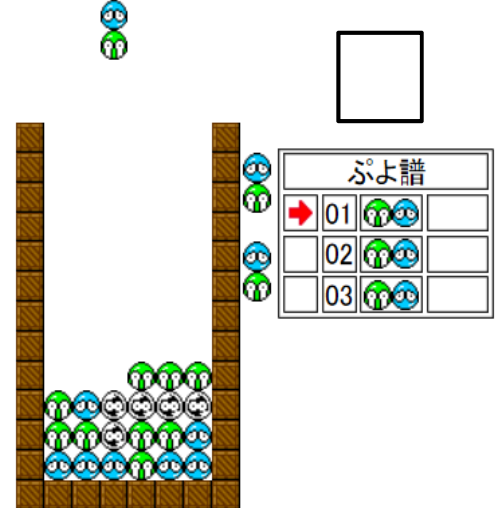
【3連鎖&ぷよ全て消すべし】



作:さっか

第六問

【5連鎖するべし】



作:けんろう

各問題のQRコード



第一問



第二問



第三問



第四問



第五問



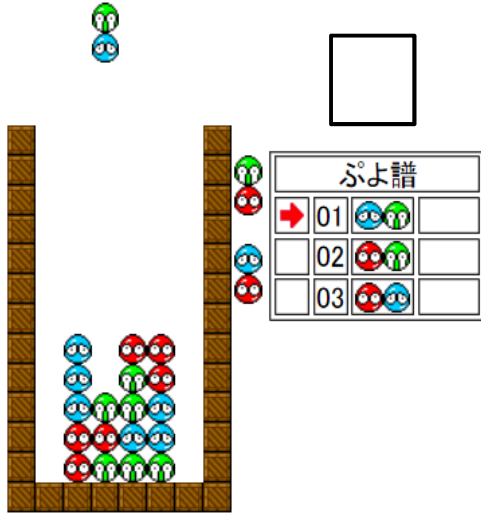
第六問

なぞぶよ戦術技術開発研究所2016

Level:Normal(各8ポイント)

第一問

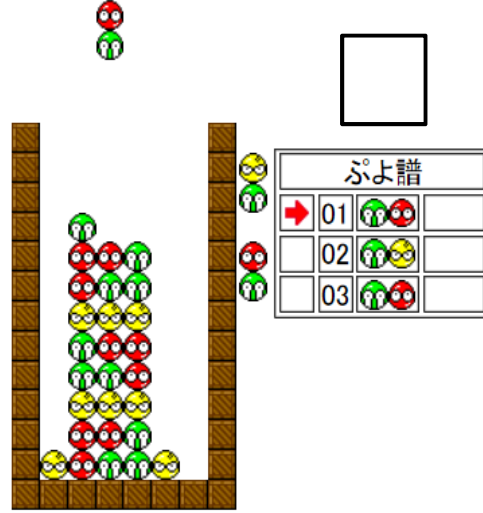
【6連鎖するべし】



作:さっか

第二問

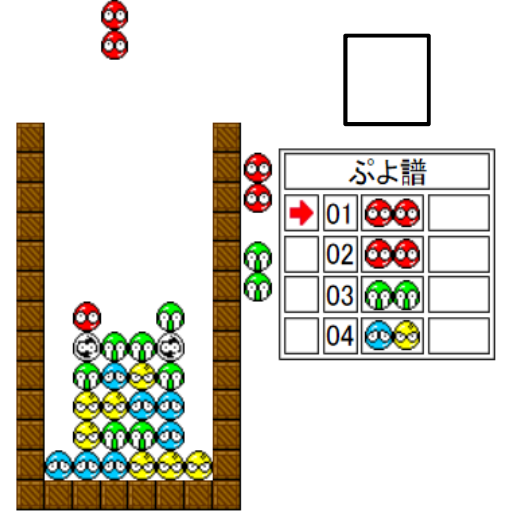
【ぷよ全て消すべし】



作:iso

第三問

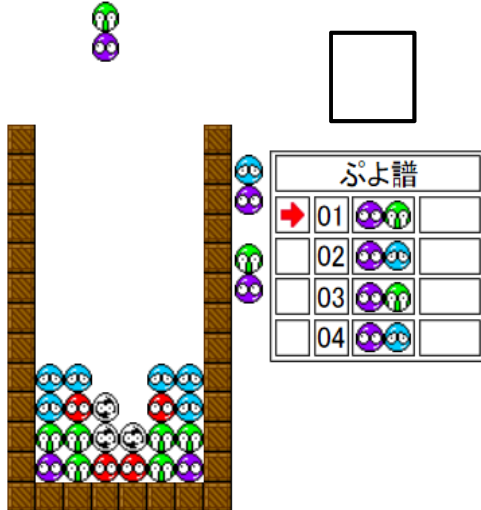
【7連鎖&ぷよ全て消すべし】



作:すぴいちゃん

第四問

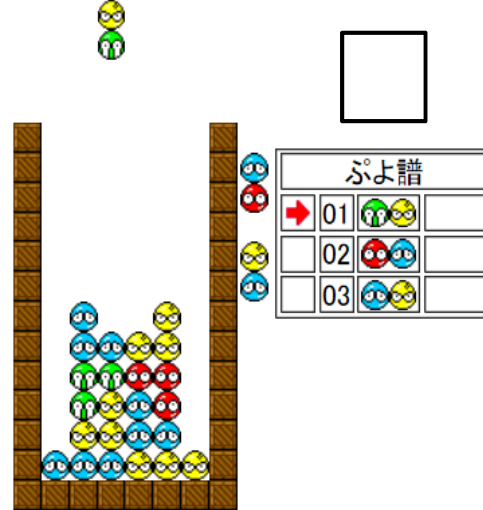
【紫ぷよ全て消すべし】



作:けんろう

第五問

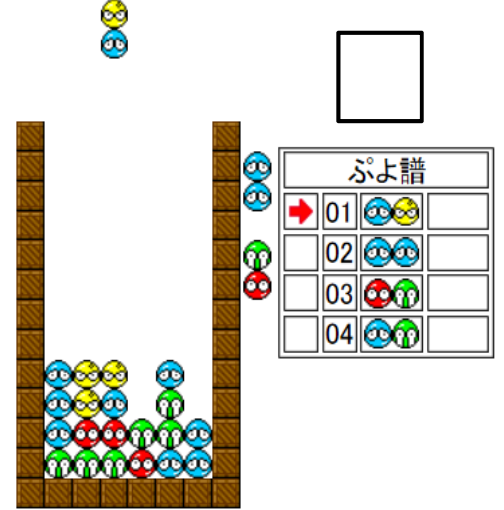
【5連鎖以上&ぷよ全て消すべし】



作:shimogon

第六問

【7連鎖するべし】



作:platinum

各問題のQRコード



第一問



第二問



第三問



第四問



第五問



第六問